

KUJDES!

- Mos harroni të kodoni grupin (A ose B) në fletëpërgjigjen e provimit. **Fletë-përgjigjet me grupin e pakoduar nuk vlerësohen.**
- Çdo pyetje ka nga një përgjigje të saktë. Nëse një pyetjeje i jepni dy përgjigje atëherë ajo pyetje do të vlerësohet si e gabuar.
- Përgjigja do të kodohet me laps. Në të kundërt kompjuteri nuk do ta lexojë.
- Përgjigjen e pyetjes do ta kodoni vetëm brenda rrethit siç është vepruar në shembullin e poshtëshënuar

Saktë A B C D E

Gabim A B C D E

- Bëni kujdes për të mos dalë jasht rrethit kur të kodoni përgjigjen në fletë-përgjigjen e provimit.
- Mos bëni asnjë veprim mbi fletë përgjigjen e provimit si zhgarravitje, rudhosje etj.
- Mos ju përgjigjini pyetjeve për të cilat nuk jeni të sigurtë. **Kujdes! 4 përgjigje gabim fshijnë një të saktë.**
- Mos qëndroni shumë tek pyetjet që nuk zgjidhni dot, sepse koha mund të mos ju mjaftojë për t'iu përgjigjur pyetjeve të tjera.
- Koha e provimit është **150 minuta**. Shfrytëzoni deri në fund kohën e provimit. Në qoftë se ju tepron kohë, bëjini dhe një kontroll testit.
- Përgjigjet e Testit 1 që ndodhen në këtë libërth, do të kodohen në fletë-përgjigje në pjesën ku shkruan “TEST - 1”, përgjigjet e Testit 2 do të kodohen në fletë përgjigje në pjesën ku shkruan “TEST - 2”.
- Në provim **ndalohet** mbajtja ose përdorimi i celularit dhe makinës llogaritëse.
- Kodoni me kujdes preferencat tuaja për shkollat në të cilat dëshironi të studioni. Rezultatet dhe bursat do të shpallen sipas preferencave të bëra.

Shkolla	Kodi
“Mehmet Akif” e Mesme - Vajza në Tiranë (me konvikt)	01
“Mehmet Akif” e Mesme - Djem në Tiranë (me konvikt)	02
“Turgut Özal” 9-Vjeçare dhe e Mesme në Tiranë (me konvikt)	03
“Hasan Riza Pasha” 9-Vjeçare dhe e Mesme në Shkodër (e mesme me konvikt)	04
“Turgut Özal” 9-Vjeçare dhe e Mesme në Durrës (klasat 9-12 me konvikt)	05

Suksese!

TEST-1

Pyetje: 40 Koha e parashikuar: 70 minuta

1.

Brinja e trekëndëshit barabrinjës është 10cm. Lartësia e tij është:

- A) 5 cm B) $5\sqrt{2}$ cm
 C) $5\sqrt{3}$ cm D) 10 cm

2.

Artani merr pjesë në një konkurs me 20 pyetje, në të cilin për çdo pyetje të saktë fiton 3 pikë dhe çdo pyetje të gabuar humbet 1 pikë. Nëse Artani i përgjigjet të gjitha pyetjeve dhe e mbaron konkursin me 24 pikë, sa pyetjeve i është përgjigjur saktë Artani?

- A) 8 B) 10 C) 11 D) 13

3.

Sa është përfundimi i $\frac{3 \cdot 10^6 - 2 \cdot 10^6}{4 \cdot 10^5}$

- A) $\frac{3}{2}$ B) $\frac{5}{2}$ C) $\frac{1}{4}$ D) $\frac{3}{4}$

4.

Sa është vlera e x 'it nëse $2 + \frac{1}{1 + \frac{1}{x}} = 1$?

- A) 1 B) $\frac{1}{2}$ C) $-\frac{1}{2}$ D) $-\frac{1}{4}$

5.

Sa është vlera e $y - x$ nëse $\begin{cases} 2x + 3y = 10 \\ 3x + 2y = 5 \end{cases}$?

- A) 2 B) 3 C) 4 D) 5

6.

Sa është përfundimi i $\frac{2(\sqrt{5} + 1)}{\sqrt{5} - 1}$.

- A) $2\sqrt{5}$ B) $3\sqrt{5}$
 C) $2 + \sqrt{5}$ D) $3 + \sqrt{5}$

7.

Sa është shuma e vlerave të x 'it nëse $|x-5|=3$

- A) 10
- B) 8
- C) 5
- D) 2

8.

Sa është vlera e $\left(\frac{1}{5}-\frac{3}{2}\div\frac{3}{4}+0,2\right)$?

- A) $-\frac{4}{15}$
- B) $-\frac{8}{5}$
- C) $-\frac{17}{10}$
- D) -2

9.

Sa është x 'i nëse

$$\left(1+\frac{1}{2}\right)\cdot\left(1+\frac{1}{3}\right)\cdot\left(1+\frac{1}{4}\right)\cdot\cdots\cdot\left(1+\frac{1}{x}\right)=20?$$

- A) 35
- B) 37
- C) 39
- D) 41

10.

Nëqoftëse $\frac{a}{b}=\frac{c}{a}$ dhe $\frac{a}{c-2}=\frac{b+3}{a}$, gjej

vlerën e $3c-2b$.

- A) -6
- B) 6
- C) 7
- D) 8

11.

Cili nga numrat e mëposhtëm nuk plotëpjestohet me 3 ?

- A) 5430
- B) 3692
- C) 8172
- D) 7530

12.

Sa përqind e 90-ës është 27-a?

- A) 15%
- B) 20%
- C) 30%
- D) 33%

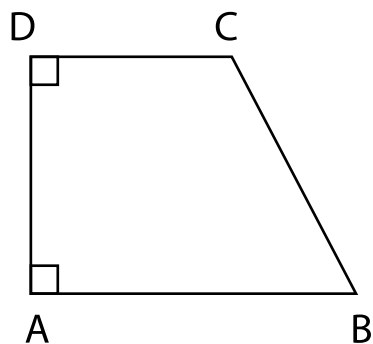
13.

Nëqoftëse $\frac{A}{B} = \frac{3}{4}$ dhe $\frac{A}{C} = \frac{2}{3}$, gjeni sa është $\frac{B}{C}$

- A) 2 B) $\frac{9}{8}$ C) $\frac{8}{9}$ D) $\frac{7}{8}$

14.

ABCD është trapez kënddrejtë. $[AB] \perp [AD]$;
 $[AD] \perp [CD]$. $|CD| = 4cm$; $|AD| = 8cm$;
 $|BC| = 10cm$. Gjej sipërfaqen $S(ABCD)$.



- A) 50 B) 56 C) 72 D) 112

15.

$$x \neq -c$$

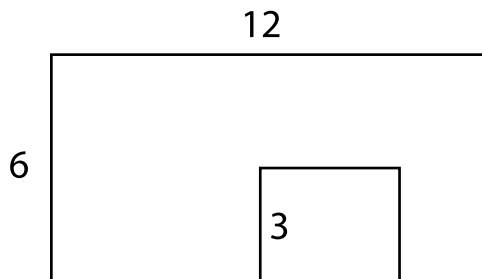
$$x^2 - ax + cx - bx - ac - bc = 0$$

$$\Rightarrow x = ?$$

- A) $a - b$ B) $b - a$
 C) c D) $a + b$

16.

Perimetri i figurës është:



- A) 46 B) 48 C) 38 D) 42

17.

Sa është vëllimi i një cilindri që e ka rrezën $r = 3 \text{ cm}$ dhe lartësinë $h = 6 \text{ cm}$?

- A) $54\pi \text{ cm}^3$ B) $27\pi \text{ cm}^3$
 C) $36\pi \text{ cm}^3$ D) $18\pi \text{ cm}^3$

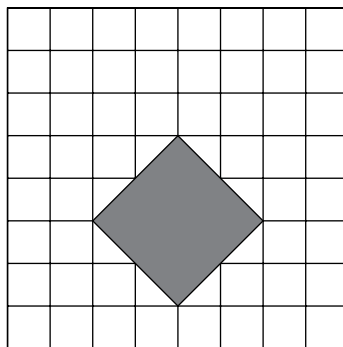
18.

Nëqoftëse $x^2 + y^2 = 17$, $x \cdot y = 4 \Rightarrow x - y = ?$

- A) 3 B) 4 C) 5 D) 6

19.

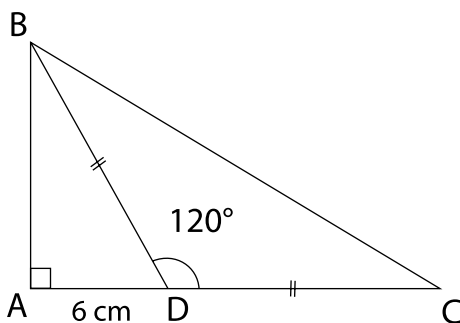
Figura e dhënë është një katror. Sa përqind është sipërfaqja e ngjyrosur ?



- A) 25% B) 20% C) 15% D) 12,5%

20.

Në figurën e dhënë, ABC është trekëndësh këndëdrejtë, $\widehat{BDC} = 120^\circ$, $|AD| = 6 \text{ cm}$ dhe $|BD| = |DC|$. Sa është $|BC|$?



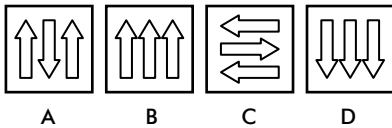
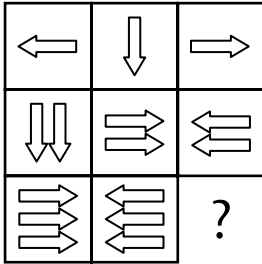
- A) $12\sqrt{2}$ B) $12\sqrt{3}$
 C) $18\sqrt{2}$ D) $18\sqrt{3}$

UDHEZIM

PER MENYREN E ZGJIDHJES SE PYETJEVE LOGJIKE

Shembull 1

Cila është pllaka që mungon?



Udhëzim: Duke u bazuar në dy rreshtat e pare vërejmë se shigjetat tregojnë vetëm 3 drejtime (djathtas, majtas dhe poshtë). Nga lartë poshtë numri i pllakave rritet me nga një shigjetë. Pra pllaka që mungon duhet të ketë 3 shigjeta me drejtim poshtë, ndryshe nga dy pllakat e tjera. Prandaj e vetmja përgjigje e saktë është D.

Shembull 2

Cila fjalë korrespondon me 3020?

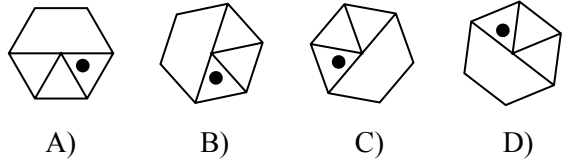
2131
6050
3020 3020 ⇒ ?
4131
5131

- A) YAKA B) SIVI C) TAKA
D) VAKA E) KIYI

Udhëzim: Secila shkronjë korrespondon me një shifër. 3-shigjetet në numrin e parë, të katërt dhe të pestë në shifrën e parafundit që korrespondon me gërmën K. Pra fjala që i korrespondon numrit 3020 fillon me K. E vetmja alternative që fillon me gërmën K është KIYI.

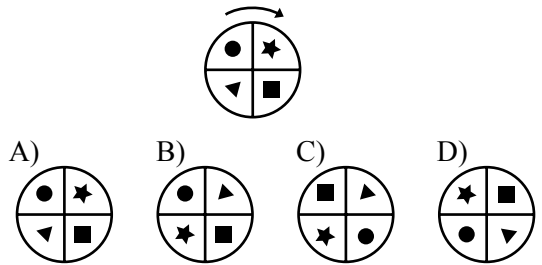
21.

Cila është ndryshe nga të tjerat?



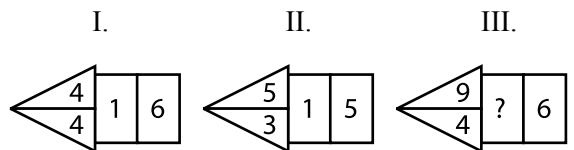
22.

Çfarë forme merr figura e dhënë nëse rrotullohet 270° në drejtim të akrepave të orës?



23.

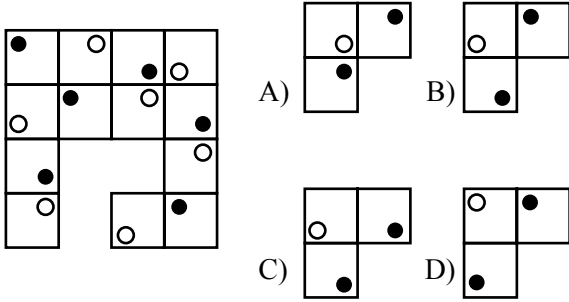
Cili numër vjen në vend të pikëpyetjes?



- A) 2 B) 3 C) 4 D) 5

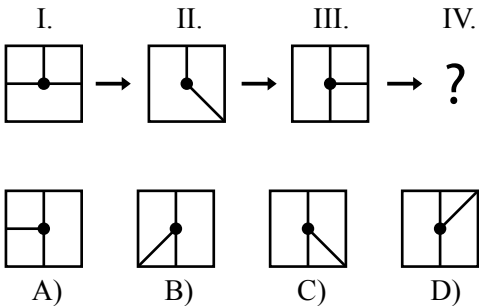
24.

Cila figurë vjen në vendin bosh?



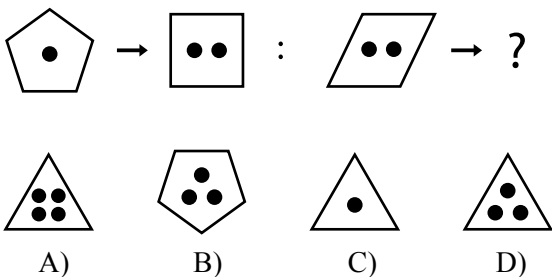
25.

Sipas rregullit të ndjekur në figurë, çfarë duhet të vijë në vend të pikëpyetjes?



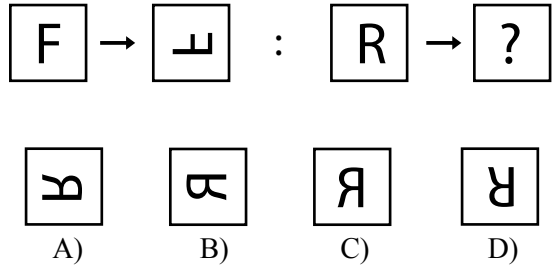
26.

Sipas rregullit të ndjekur në figurë, çfarë duhet të vijë në vend të pikëpyetjes?



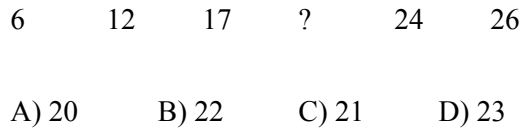
27.

Sipas rregullit të ndjekur në figurë, çfarë duhet të vijë në vend të pikëpyetjes?



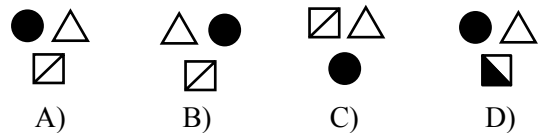

28.

Cili numër mungon?

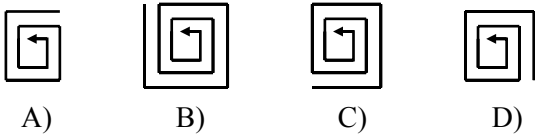
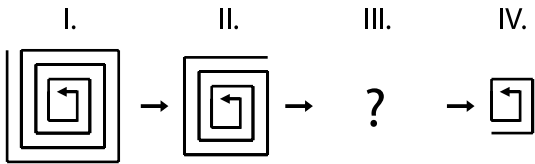


29.

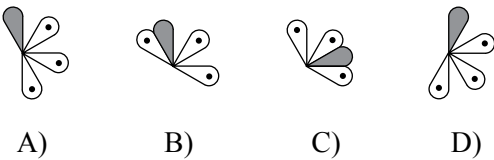
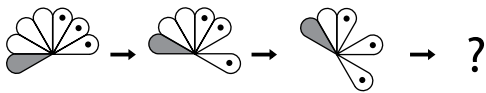
Sipas rregullit të ndjekur në figurë, çfarë duhet të vijë në vend të pikëpyetjes?



30.

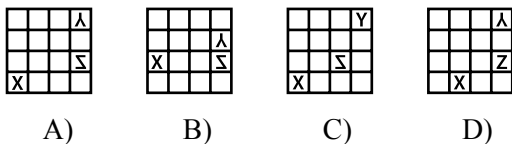
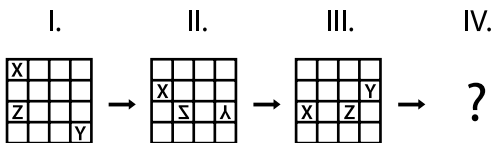


31.



32.

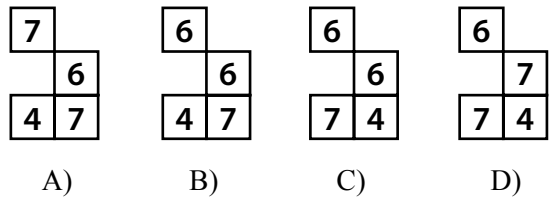
Cila nga figurat vjen më pas?



33.


Cilët numra vijnë në kutitë bosh?

4		3	5
7	9		8
5			6
8	10	7	9



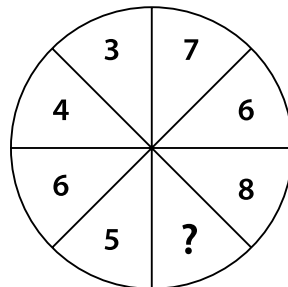
34.

Sa është vlera e x nëse: $64 - 12 \times 2 + 6 \div 3 = x$?



35.

Cili numër vjen në vend të pikëpyetjes?



31.

Është tipar i mbiemrave marrëdhëniorë:

- A) Janë të parmë.
- B) Janë të përbërë.
- C) Formojnë emra abstraktë.
- D) Nuk formojnë emra abstraktë.

32.

Tema fjalëformuese e fjalëve “besimi, fillimin, drejtimi”, është:

- A) Besim, fillim, drejtim
- B) Beso, fillo, drejto
- C) Bes, fill, drejt
- D) Besimi, fillimin, drejtimi

33.

Trajton tema të tilla, ku heronjtë kryesorë janë të paradënuar të përfundojnë në fatkeqësi ose në vdekje:

- A) Drama
- B) Komedia
- C) Melodrama
- D) Tragjedia

34.

Përfaqëson grupin e qytetarëve, që shprehin mendimin dhe opinionin publik lidhur me atë që po ndodh, në një vepër dramatike (tragjedi):

- A) Monologu
- B) Dialogu
- C) Kori
- D) Autori

35.

I përket Letërsisë së Vjetër Shqipe:

- A) Pjetër Bogdani
- B) Naim Frashëri
- C) Andon Zako Çajupi
- D) Fan Noli

36.

Forma e vjetër nga e cila romani ka trashëguar rrëfimin objektiv është:

- A) Legjenda
- B) Përralla
- C) Poema epike
- D) Miti

37.

Poezi e ndërtuar në formën e ligjëratës oratorike, ku duket sikur autori ligjëron para atdhetarëve të tij, është:

- A) “Ëndrra e prerë”
- B) “Fjalët e qiririt”
- C) “Në mundsh”
- D) “Lamtumirë”

38.

Nuk rrëfen ngjarjen, por në ndryshim nga autorët e tjerë të romaneve apo tregimeve, rrëfen rrëfimin për ngjarjen:

- A) Ismail Kadare
- B) Lasgush Poradeci
- C) Mitrush Kuteli
- D) Migjeni

39.

Vepra “Kush e solli Doruntinën”, i përket llojit letrar të:

- A) Romanit
- B) Novelës
- C) Legjendës
- D) Gojëdhënës

40.

Në cilën nga pjesët e mëposhtme mbizotëron më tepër emocioni apo shija personale:

- A) “Kostandini i vogëlith dhe kthimi i Odiseut”
- B) “Tanusha dhe Laura”
- C) “Përkthimi i soneteve”
- D) “Në Manastir te Migjeni”

41.

Peizazhin e dhënë mes imazheve të ngjyrave e lëvizjeve të ngadalta e gjejmë në poezinë:

- A) “Mbrëmjes” Safo
- B) “Kroni i katundit” Ernest Koliqi
- C) “Mbramja” Esad Mekuli
- D) “Krijimi i rruzullit” Pjetër Bogdani

42.

Mesazhi i autorit: “*Që Shqipëria të mund të mbijetonte nga dyndjet barbare, asaj i nevojitej jo vetëm trimëria, lufta, por dhe identiteti kombëtar.*”, jepet në pjesën:

- A) “Kush e solli Doruntinën”
- B) “Gjonomadhë e Gjatollinj”
- C) “Kënga e Beratit”
- D) “Vdekja e Ali Pashës”

43.

Gjeni fjalinë që ka përcaktor kallëzuesor të kryefjalës:

- A) Ishte punë e vështirë.
- B) Mëngjesi i freskët e solli në vete.
- C) Dëshira për të lexuar i lindi që në klasë të parë.
- D) Mëngjesi dukej si i larë në ar.

44.

Çfarë vlere ka njësia frazeologjike në fjalinë:

“Sillet si kalë pa fre.”

- A) Mbiemërore
- B) Foljore
- C) Ndajfoljore
- D) Emërore

45.

Gjeni fjalinë që ka përcaktor kallëzuesor të kundrinorit të drejtë:

- A) Mësuese Mira u zgjodh drejtuese e klubit të dramës.
- B) Dihet se toka rrotullohet.
- C) E mësuam mësimin për sot.
- D) Në fillim këtë e kishte kujtuar punën më të lehtë.

46.

Dallo në cilin rast është përdorur saktë nyja e përparme:

- A) Akademia e Shkencave të Shqipërisë është organizatore e panairit.
- B) Ajo i besonte verbërisht fjalës së të moshuarës.
- C) Genti është vëllai i shoqes sime së klasës.
- D) Akademia e Shkencave e Shqipërisë rizgjodhi kryetarin e saj.

47.

Gjeni fjalinë që ka folje kalimtare:

- A) Koha ikën shpejt.
- B) Atë punë qaje me lot tani.
- C) Aeroplani u ul në pistë në orën e caktuar.
- D) Vitet po ikin një e nga një pa kuptuar.

48.

Në fjalinë *“Në sytë e nënës ndriti një flakë e lehtë gëzimi.”* përcaktori i nënvizuar shprehet me emër në rasën:

- A) Dhanore
- B) Emërore
- C) Kallëzore
- D) Rrjedhore

49.

Gjeni përdorimin e gabuar të shenjave të pikësimit në ligjëratën e drejtë:

- A) - Nuk thotë kot populli: - “Punën e sotme mos e ler për nesër.”
- B) – Le të vijë dhe ai, - tha djali, - por duhet të nxitojë.
- C) “Le të vijë dhe ai, - tha djali, - por duhet të nxitojë.”
- D) Papritur mësuesja tha: - Sot do të bëjmë një vizitë në muze.

50.

Janë emra me dy trajta shumësi:

- A) Krijim, mal, fustan
- B) I riu, e reja, e mira
- C) Lëkurë, pikë, grykë
- D) Kodër, pupël, lakër

